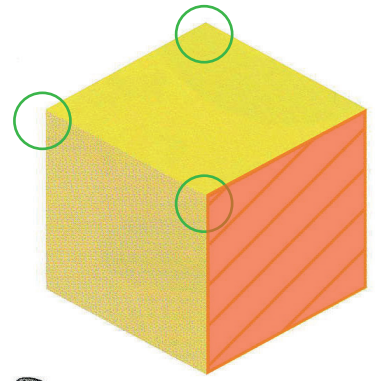


## À mon tour

- 1  Entoure en **vert** 3 sommets du cube.
-  Colorie en **orange** la face hachurée.
-  1, 2, 3 Compte toutes les faces du cube et complète.

**Attention !** Toutes les faces du cubes ne sont pas visibles sur le dessin.

Ce cube a 6 faces.



20



- 2  Entoure en **vert** 3 sommets du pavé droit.
-  Colorie en **violet** la face hachurée.

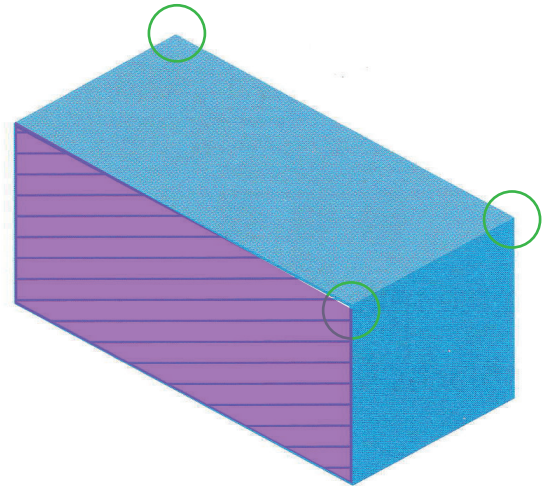
Quelle est la forme de la face violette ?

**Attention !** La face violette est déformée sur le dessin.


-  Complète.

La face **violette** du pavé droit

est un rectangle.



## Je joue

**Jeu (28)** ■ Joueurs : 4 ■ Matériel : sac contenant des solides 



Prendre 12 morceaux de sucre.

À tour de rôle, former un pavé droit avec ces 12 morceaux de sucre.